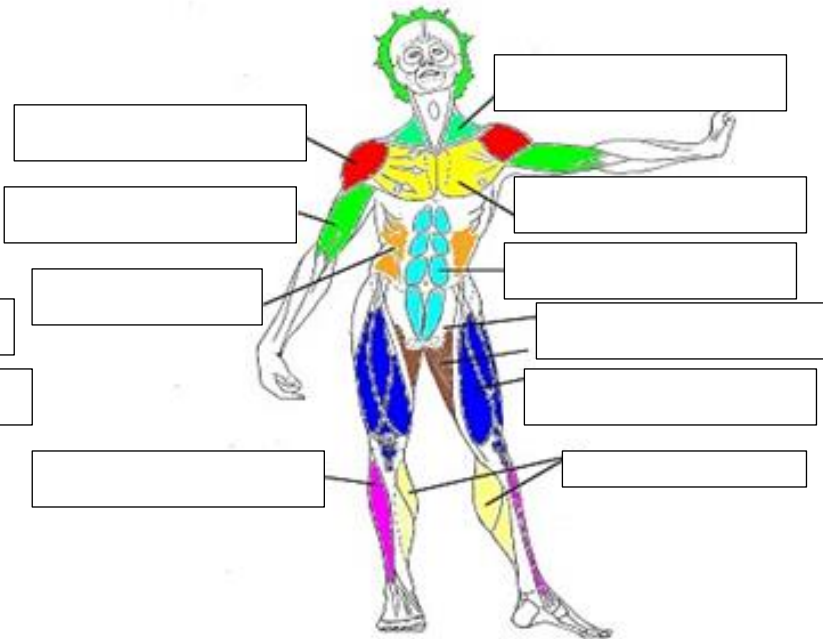
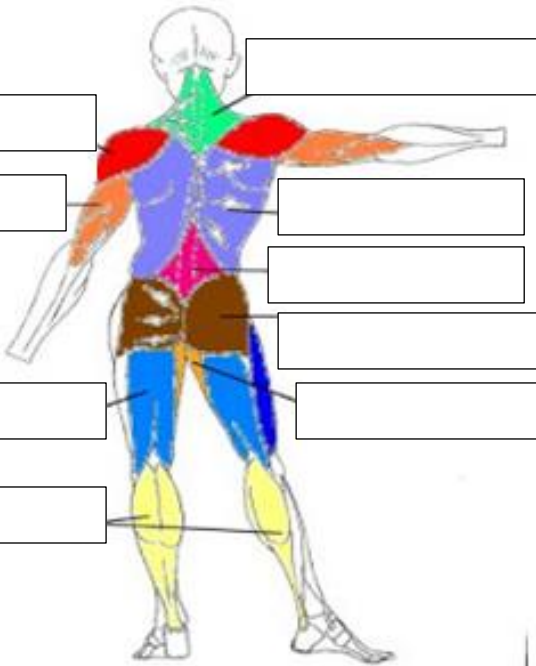


TAREA 1: CONOCER LOS MÚSCULOS Y HUESOS

1. Señala el nombre de los siguientes músculos.

BÍCEPS	TRÍCEPS	CUADRÍCEPS	BÍCEPS FEMORAL	DELTOIDES
GEMELOS	DORSAL	PECTORAL	TRAPECIO	ABDOMINALES
OBLÍCUOS	GLÚTEOS	LUMBARES	TIBIAL ANTERIOR	ADDUCTORES
GEMELOS	TRAPECIO	ADDUCTORES	PSOAS ILIACO	DELTOIDES

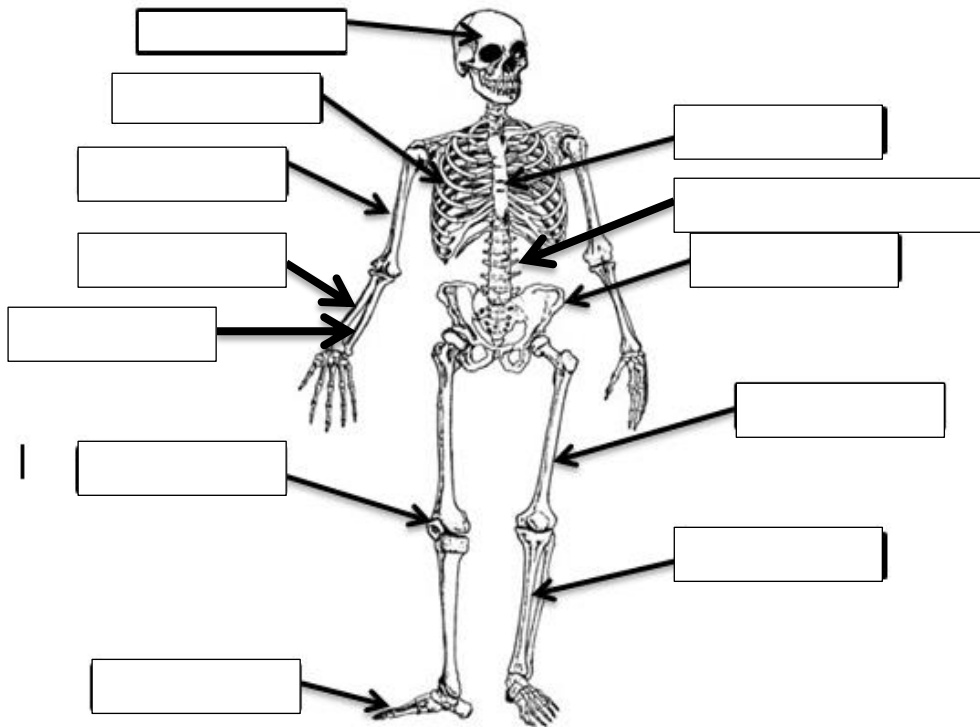


2. Señala el nombre de los siguientes músculos en inglés.

BÍCEPS		CUADRÍCEPS	
GEMELOS		PECTORAL	
OBLÍCUOS		LUMBARES	
GEMELOS		ADDUCTORES	
TRÍCEPS		BÍCEPS FEMORAL	
DORSAL		TRAPECIO	
GLÚTEOS		TIBIAL ANTERIOR	
TRAPECIO		PSOAS ILIACO	
DELTOIDES		ADDUCTORES	
ABDOMINALES		DELTOIDES	

3. Señala el nombre de los siguientes huesos:

CRANEO	PELVIS	COSTILLAS
ESTERNÓN	TIBIA	METATARSO
COLUMNA VERTEBRAL	CÚBITO	FÉMUR
RÓTULA	HÚMERO	RADIO

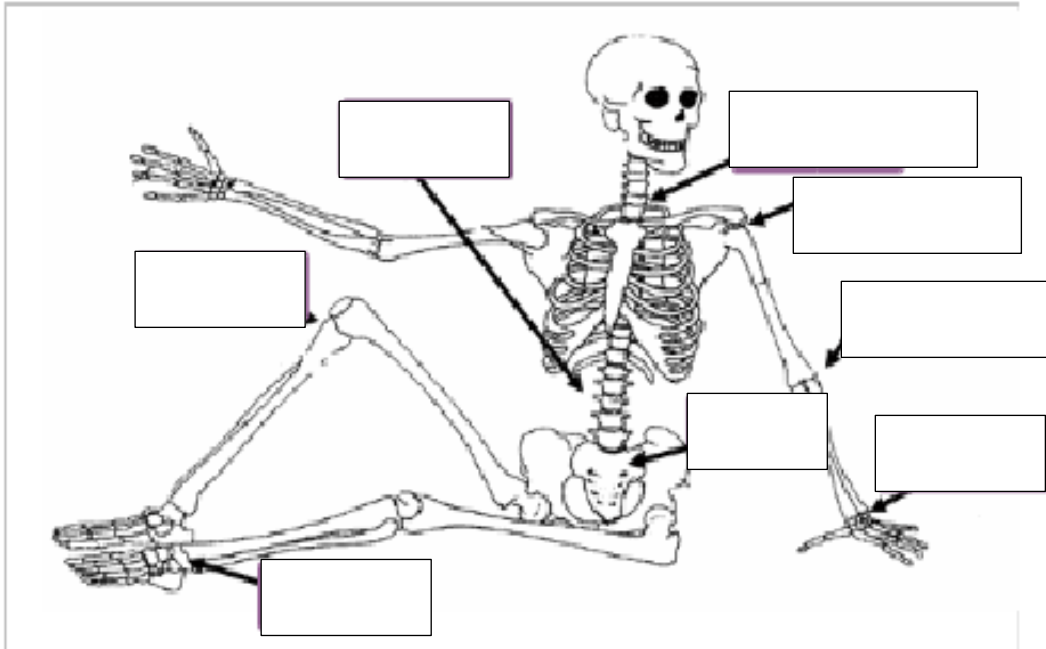


4. Señala el nombre de los siguientes huesos en inglés.

CRANEO		COSTILLAS	
ESTERNÓN		METATARSO	
VERTEBRAS		FÉMUR	
RÓTULA		RADIO	
TIBIA		CÚBITO	
PELVIS		HÚMERO	

5. Señala el nombre de las siguientes articulaciones:

CUELLO	MUÑECA
TOBILLO	CADERA
RODILLA	HOMBRO
CODO	COLUMNA VERTEBRAL



6. Señala el nombre de las siguientes articulaciones en inglés.

CUELLO	
TOBILLO	
RODILLA	
CODO	
MUÑECA	
CADERA	
HOMBRO	
COLUMNA VERTEBRAL	